

## Zadanie 2

**Wykonać następujące rysunki oraz dorysować rzut boczny**

wg. klucza:

$N$  = [liczba liter w nazwisku];

$I$  = [liczba liter w imieniu];

$p$  – liczba parzysta;

$n$  – liczba nieparzysta.

Figury wynikające z rysunków należy narysować z zachowaniem następujących wymiarów:

- wysokość  $10 \times N$

- szerokość  $10 \times I$

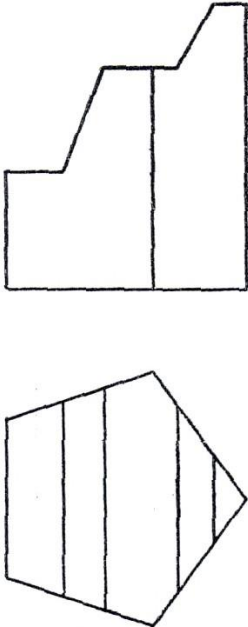
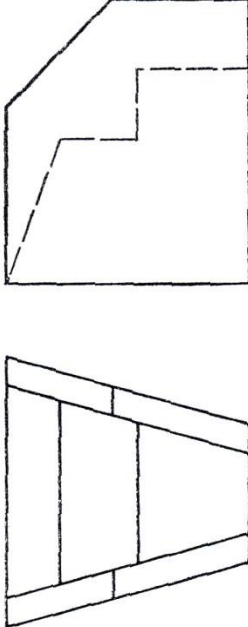
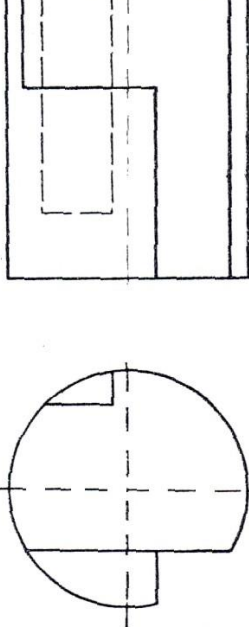
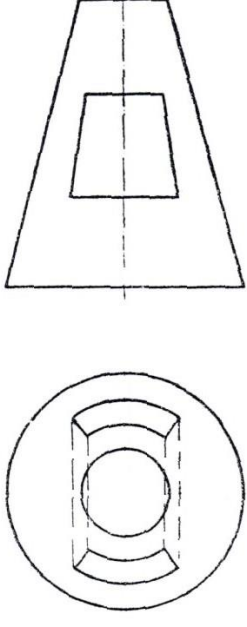
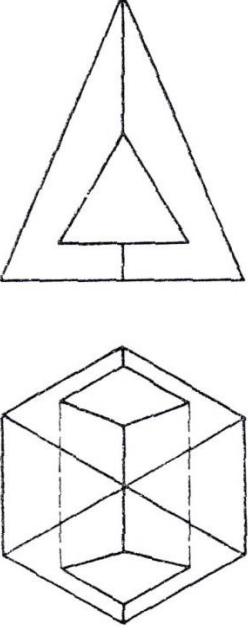
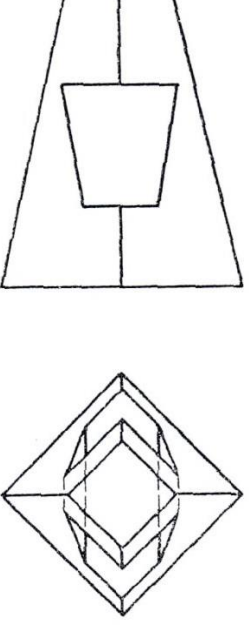
Pozostałe wymiary dowolne proporcjonalnie do rysunku.

Rysunek	Kto wykonuje?	Uwagi.
1	wszyscy	
2	wszyscy	
3	$N\{n\}, I\{n\}$	
4	$N\{p\}, I\{p\}$	
5	$N\{n\}, I\{p\}$	
6	$N\{p\}, I\{n\}$	

Przykład:

Rys. 5 wykonuje osoba  $N\{n\}, I\{p\}$  czyli osoba która w Nazwisku posiada nieparzystą liczbę liter oraz w Imieniu parzystą liczbę liter.

Rysunki:

					
Rys. 1	Rys. 2	Rys. 3	Rys. 4	Rys. 5	Rys. 6